

Grafici di funzioni composte

Grafici di funzioni composte tracciati con simmetrie

Data una funzione composta individuo le funzioni componenti

Ecco due esempi

$y = \ln(-x)$ funzione composta da $z = -x$ con $y = \ln(z)$

$y = -\ln(x)$ funzione composta da $z = \ln(x)$ con $y = -z$

Ecco come posso ragionare

Disegno $y = \ln(-x)$ con simmetrie

Per tracciare con simmetrie il grafico di $y = \ln(-x)$:

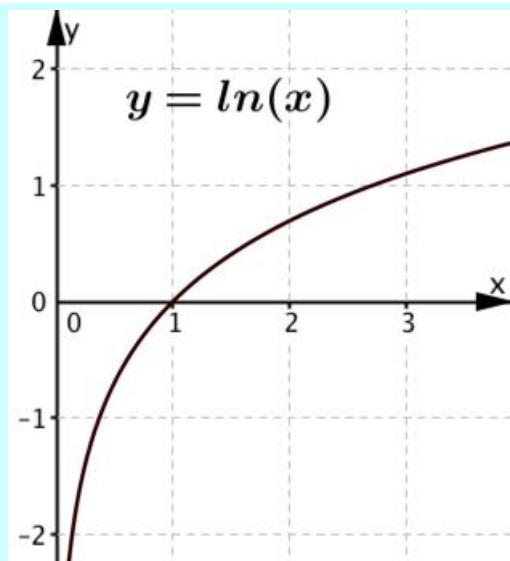
a. Considero la funzione come trasformata di $y = \ln(x)$,
perciò indico le lettere con apici e scrivo $y' = \ln(-x')$

b. Confronto

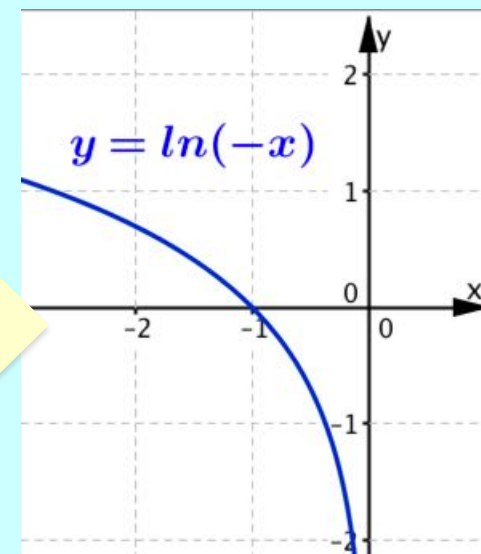
$$\begin{array}{l} y = \ln x \\ y' = \ln(-x') \end{array}$$

$$\left\{ \begin{array}{l} x = -x' \\ y = y' \end{array} \right\} \longleftrightarrow \left\{ \begin{array}{l} x' = -x \\ y' = y \end{array} \right\}$$

Simmetria rispetto
all'asse y che cambia
segno alle ascisse



Ribalto
attorno
all'asse y



Disegno $y = -\ln(x)$ con simmetrie

Per tracciare con simmetrie il grafico di $y = -\ln(x)$:

a. Considero la funzione come trasformata di $y = \ln(x)$,
perciò indico le lettere con apici e scrivo $y' = -\ln(x')$

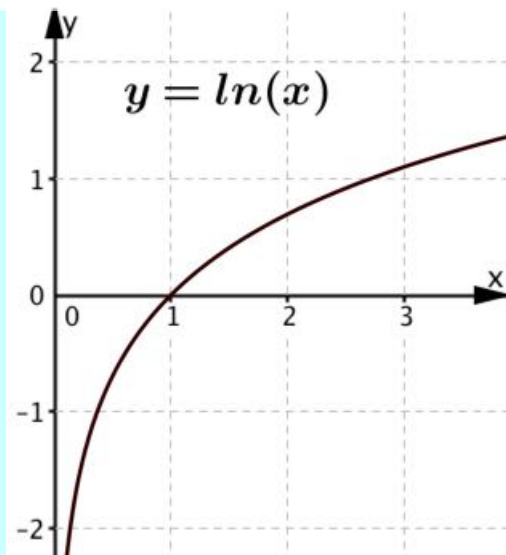
b. Per confrontare le funzioni esplicito $\ln(x')$ e ottengo $-y' = \ln(x')$

c. Confronto

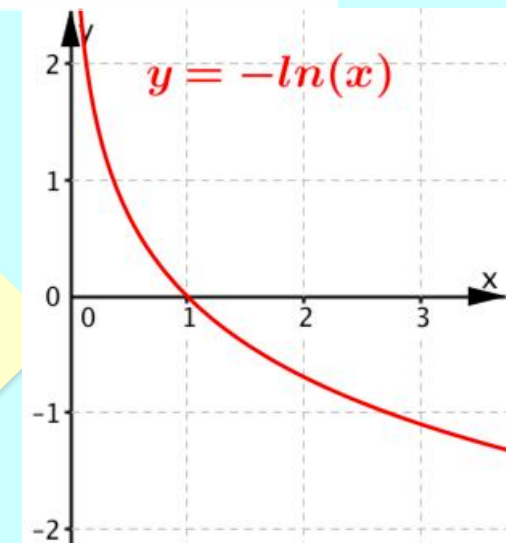
$$\begin{array}{l} y = \ln x \\ -y' = \ln(x') \end{array}$$

$$\begin{cases} x = x' \\ y = -y' \end{cases} \longleftrightarrow \begin{cases} x' = x \\ y' = -y \end{cases}$$

Simmetria rispetto
all'asse x che cambia
segno alle ordinate



**Ribalto
attorno
all'asse x**



Grafici di funzioni composte con modulo

Data una funzione composta individuare le funzioni componenti

Primi due esempi

$y = \ln|x|$ funzione composta da $z = |x|$ con $y = \ln(z)$

$y = |\ln(x)|$ funzione composta da $z = \ln(x)$ con $y = |z|$

Per tracciare i grafici mi baso:

- sulla funzione modulo definita per casi;
- sulla simmetria rispetto all'asse x o all'asse y .

Vediamo come procedo.

Disegno $y = \ln|x|$ con funzione definita per casi

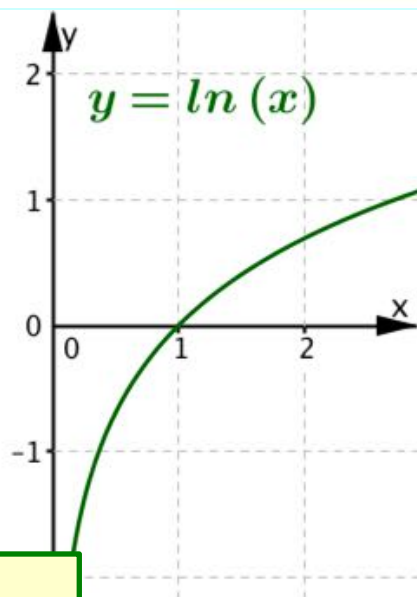
Per tracciare con funzione definita per casi il grafico di $y = \ln|x|$:

a. Osservo che la funzione è composta da $z = |x|$ con $y = \ln(z)$

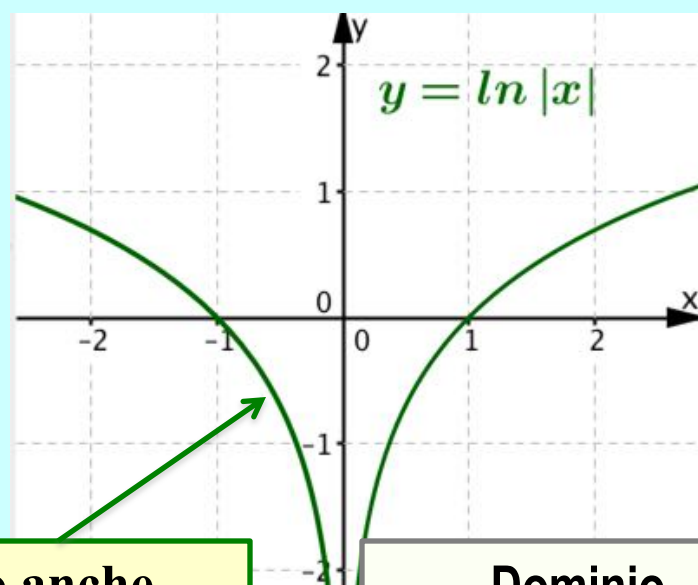
b. Ricordo che $|x| = \begin{cases} x, & \text{se } x \geq 0 \\ -x, & \text{se } x < 0 \end{cases}$

$\ln|x| = \begin{cases} \ln(x), & \text{se } x > 0 \\ \ln(-x), & \text{se } x < 0 \end{cases}$

c. Ricordo che il dominio di $\ln(z)$ è $z > 0$



1. Disegno
 $\ln(x)$, se $x > 0$



2. Disegno anche
 $\ln(-x)$, se $x < 0$
con ribaltamento
attorno all'asse y

Dominio
i numeri reali $x \neq 0$

Disegno $y = |\ln(x)|$ con funzione definita per casi

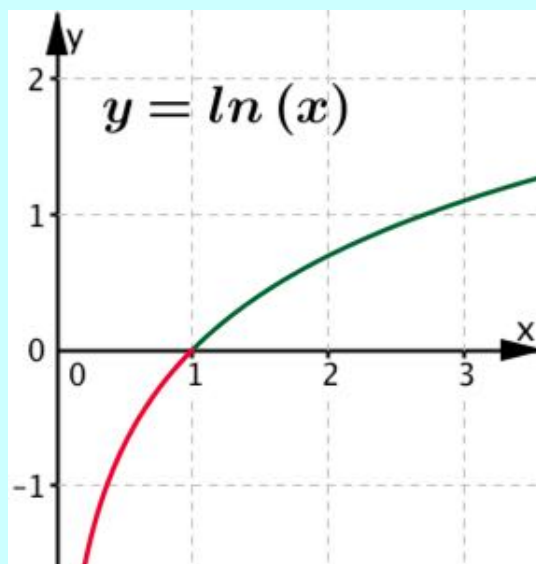
Per tracciare con funzione definita per casi il grafico di $y = |\ln(x)|$:

a. Osservo che la funzione è composta da $z = \ln(x)$ con $y = |z|$

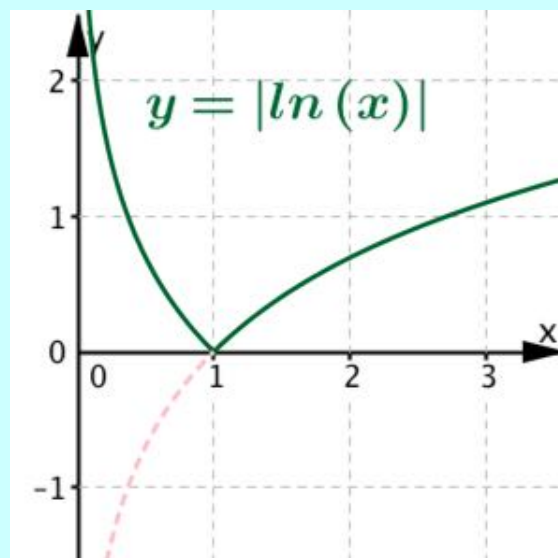
b. Ricordo che dominio di $\ln(x)$ è $x > 0$

c. Ricordo che $|z| = \begin{cases} z, & \text{se } z \geq 0 \\ -z, & \text{se } z < 0 \end{cases}$

$$|\ln(x)| = \begin{cases} \ln(x), & \text{se } \ln(x) \geq 0 \\ -\ln(x), & \text{se } \ln(x) < 0 \end{cases}$$



1. Disegno $\ln(x)$ nel dominio $x > 0$
2. Coloro in rosso l'arco sotto l'asse x , per cui risulta $\ln(x) < 0$.



3. Ribalto l'arco rosso intorno all'asse x per disegnare $-\ln(x)$, se $\ln(x) < 0$

Proprietà dei logaritmi e funzioni composte

Proprietà dei logaritmi

Per i logaritmi naturali di numeri reali, sai che vale la seguente proprietà:

$$\ln(b^n) = n \ln(b), \text{ solo se } b > 0$$

Logaritmo di una potenza

Esempi

$$\ln(3^2) = 2\ln(3) \quad \text{e} \quad \ln(2^3) = 3\ln(2)$$

Come si estende questa proprietà alle funzioni?

Esempi

$$y = \ln(x^2) \quad \text{e} \quad y = \ln(x^3)$$

Funzione composta e proprietà dei logaritmi

x	$z = x^2$	$y = \ln(x^2)$
-3	$(-3)^2 = 3^2$	$\ln(3^2) = 2\ln(3)$
-1	$(-1)^2 = 1^2$	$\ln(1^2) = 2\ln(1)$
0	$0^2 = 0$	$\ln(0)$ non esiste
1	1^2	$\ln(1^2) = 2\ln(1)$
3	3^2	$\ln(3^2) = 2\ln(3)$

$$y = \begin{cases} 2\ln(x), & \text{se } x > 0 \\ 2\ln(-x), & \text{se } x < 0 \end{cases}$$

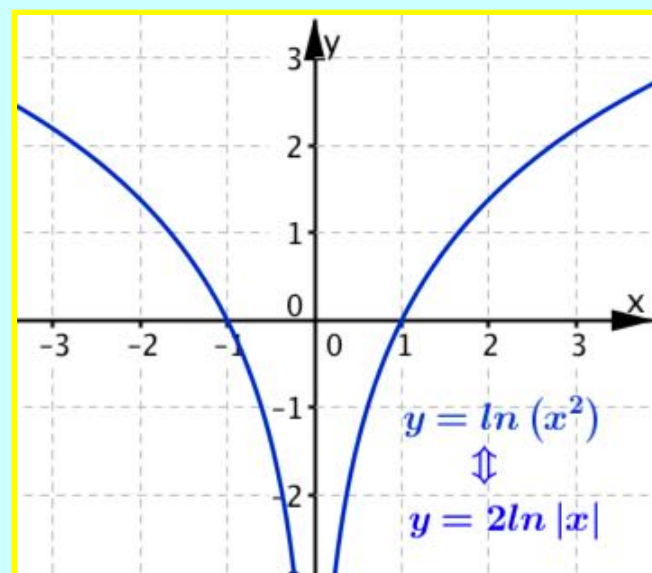
\Updownarrow

$$y = 2\ln|x|$$

con dominio i numeri reali $x \neq 0$

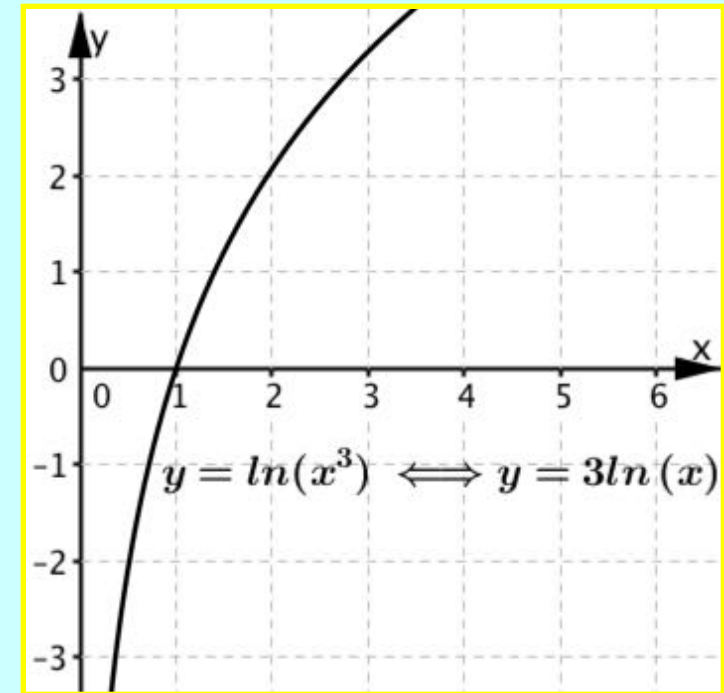
Conclusione

$$y = \ln(x^2) \Leftrightarrow y = 2\ln|x| \text{ con dominio } x \neq 0$$



Funzione composta e proprietà dei logaritmi

x	$z = x^3$	$y = \ln(x^3)$
-2	$(-2)^3 = -8$	$\ln(-8)$ non esiste
-1	$(-1)^3 = -1$	$\ln(-1)$ non esiste
0	$0^3 = 0$	$\ln(0)$ non esiste
1	1^3	$\ln(1^3) = 3\ln(1)$
3	2^3	$\ln(2^3) = 3\ln(2)$



Conclusione

$$y = \ln(x^3) \iff y = 3\ln(x) \text{ con dominio } x > 0$$

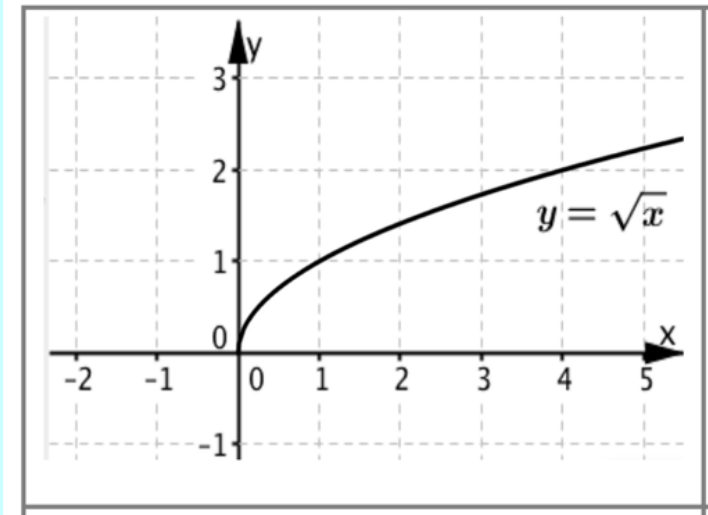
Attività

Completa la scheda di lavoro per tracciare il grafico di altre funzioni composte.

Che cosa hai ottenuto?

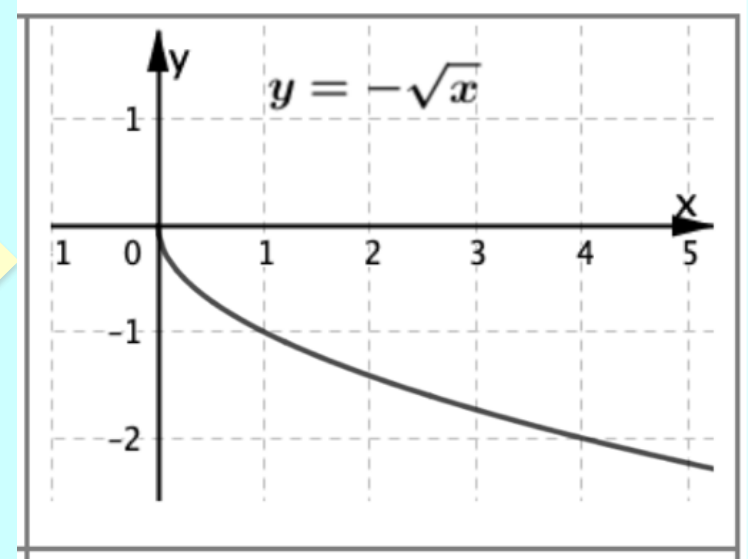
Problema 1

1. In figura 1 trovi il grafico di $y = \sqrt{x}$. Disegna il grafico di $y = -\sqrt{x}$



Il dominio è $x \geq 0$

Ribalto
attorno
all'asse x

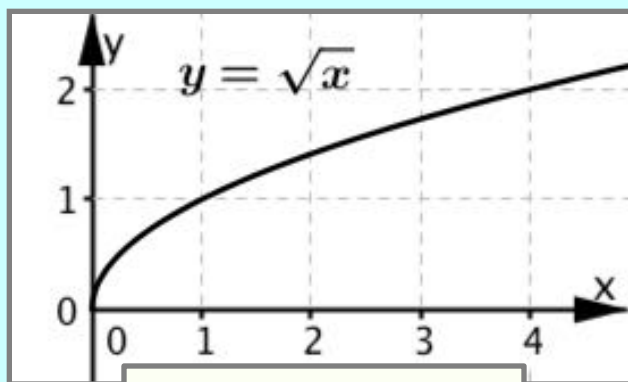


Il dominio è $x \geq 0$

Problema 1

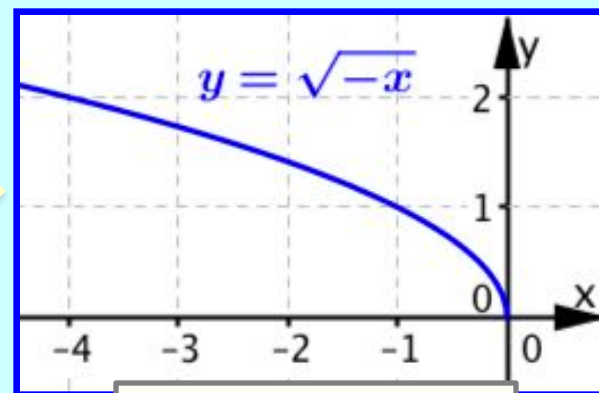
Disegna il grafico delle seguenti funzioni

$$y = \sqrt{-x} \quad , \quad y = \sqrt{|x|}$$

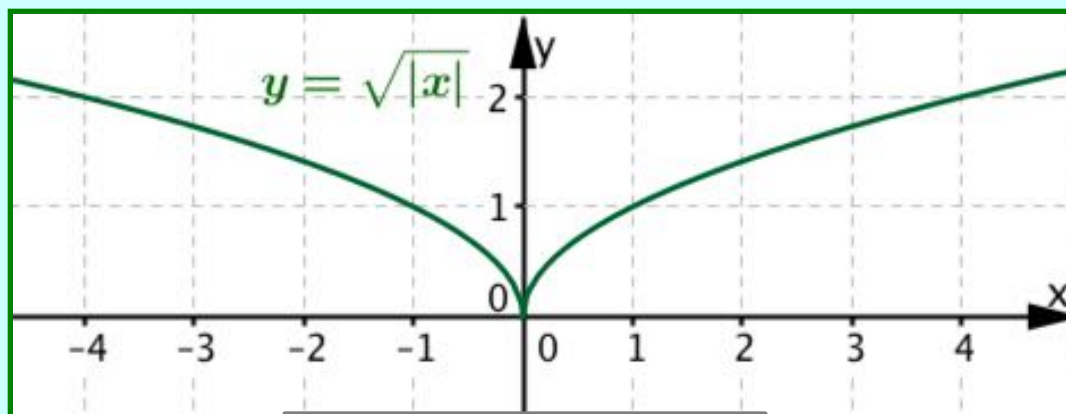


Il dominio è $x \geq 0$

Ribalto
attorno
all'asse y



Il dominio è $x \leq 0$



Il dominio è l'insieme
 \mathbb{R} dei numeri reali

$$y = \sqrt{|x|}$$
$$\Leftrightarrow \begin{cases} \sqrt{x}, & \text{se } x \geq 0 \\ \sqrt{-x}, & \text{se } x < 0 \end{cases}$$

Problema 1

b. Spiega come tracci il grafico di $y = |\sqrt{x}|$

$y = |\sqrt{x}|$ e $y = \sqrt{x}$ hanno lo stesso grafico

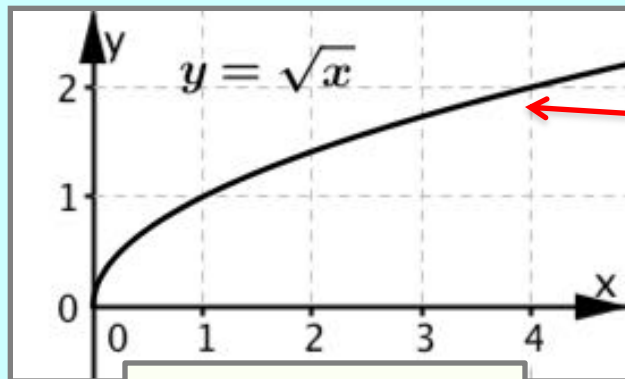
Ecco perché

$y = |\sqrt{x}|$ è composta di $z = \sqrt{x}$ con $y = |z|$

Perciò trovo

$$y = |\sqrt{x}| \Leftrightarrow y = \begin{cases} \sqrt{x}, & \text{se } \sqrt{x} \geq 0 \\ -\sqrt{x}, & \text{se } \sqrt{x} < 0 \end{cases}$$

e, per qualunque $x \geq 0$, risulta $\sqrt{x} \geq 0$



Il dominio è $x \geq 0$

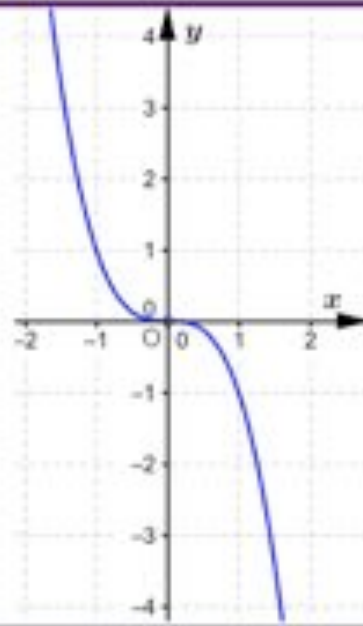
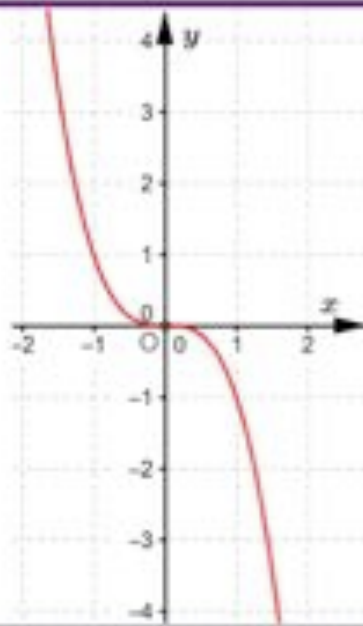
Il grafico si trova al di sopra dell'asse x in tutto il dominio della funzione.

Problema 2

- a. Ricorda che cosa vuol dire la frase:
‘ $y=\sin(x)$ è una funzione dispari’

$y = x^3$ funzione dispari

Grafico



Curva simmetrica rispetto ad asse x coincide con curva simmetrica rispetto ad asse y

Funzione

$$-y = x^3 \Leftrightarrow y = -x^3$$

$$y = (-x)^3 \Leftrightarrow y = -x^3$$

Tabella

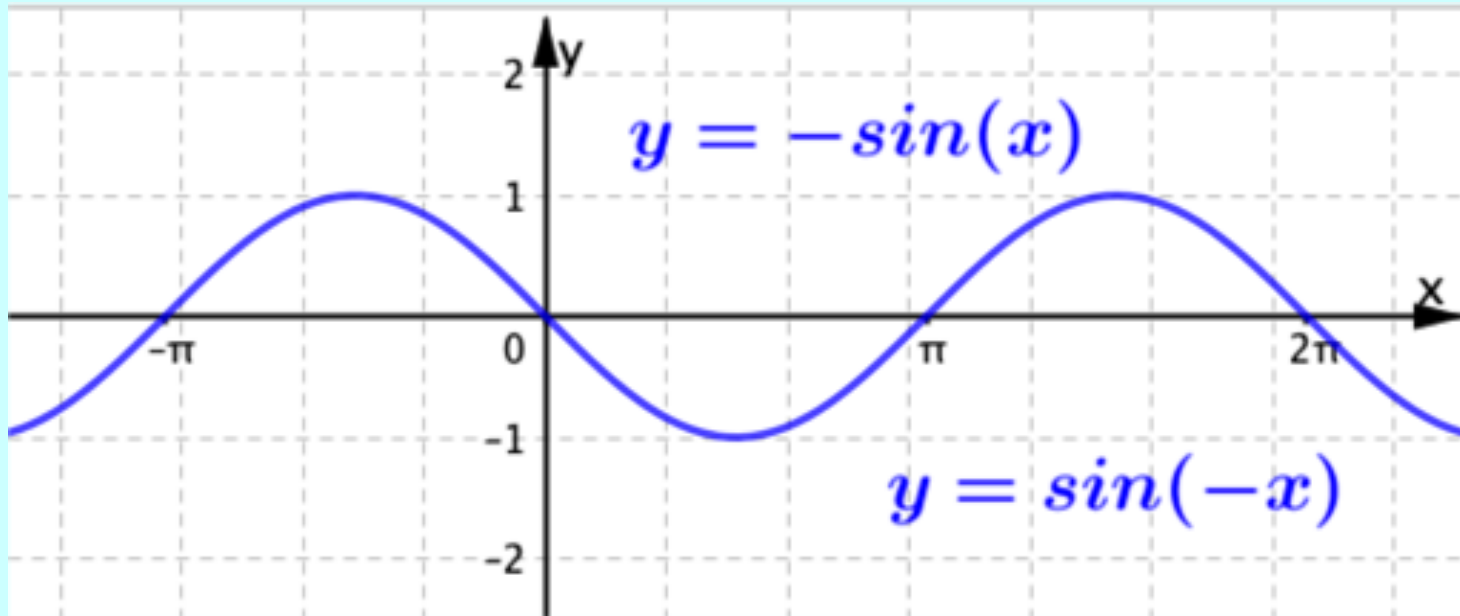
x	$y = -x^3$
-1,5	$-(-1,5)^3 = -(-3,4) = 3,4$
-1	$-(-1)^3 = -(-1) = 1$
0	$0^3 = 0$
1	$-1^3 = -1$
1,5	$-1,5^3 = -3,4$

x	$y = (-x)^3$
-1,5	$1,5^3 = 3,4$
-1	$1^3 = 1$
0	$0^3 = 0$
1	$(-1)^3 = -1$
1,5	$(-1,5)^3 = -3,4$

Funzione dispari

Il nome *'funzione dispari'* è legato al fatto che x^3 è una potenza di x con **esponente dispari**.

$y = \sin(x)$ funzione dispari

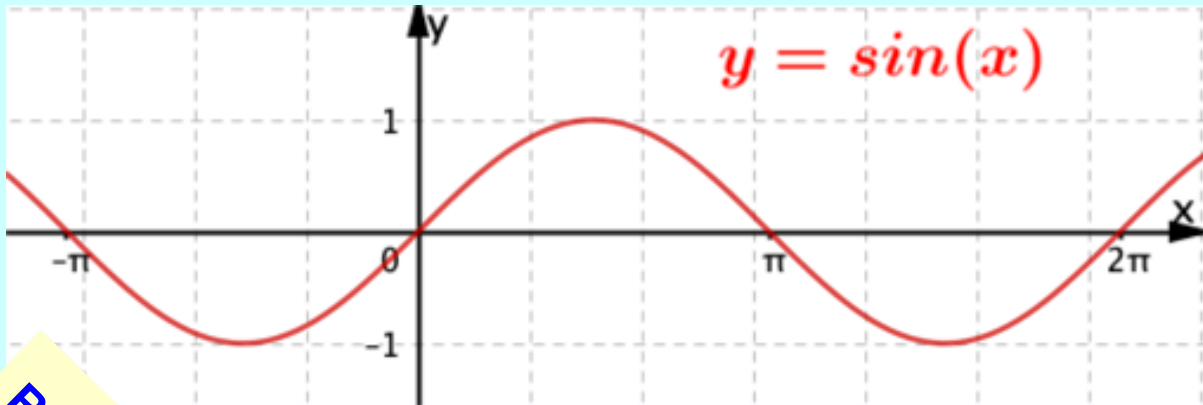


La curva simmetrica rispetto ad asse x coincide con la curva simmetrica rispetto ad asse y

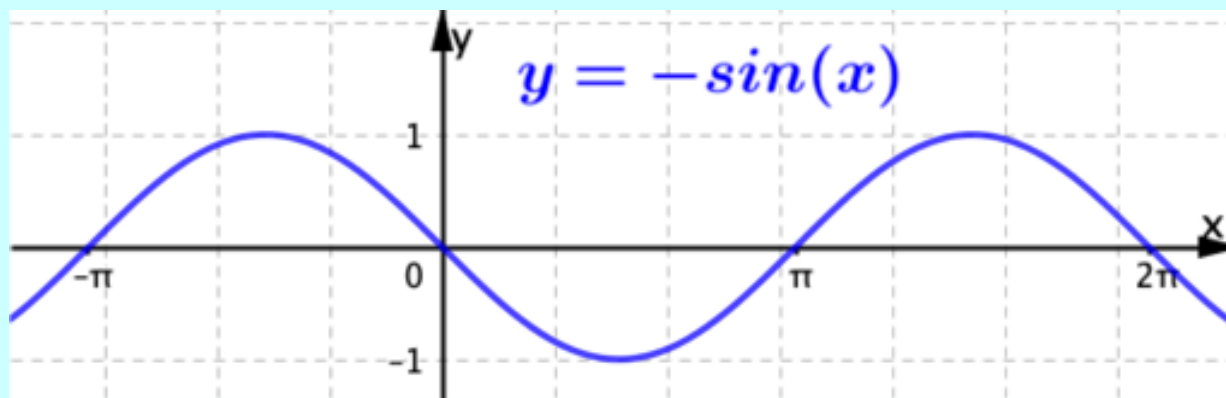
$$\sin(-x) = -\sin(x)$$

Problema 2

Grafico di $y = \sin(x)$, $y = -\sin(x)$, $y = |\sin(x)|$

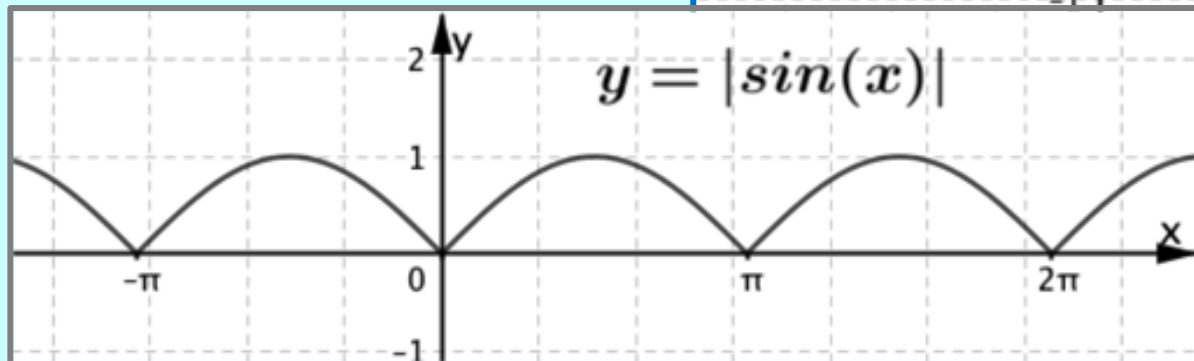
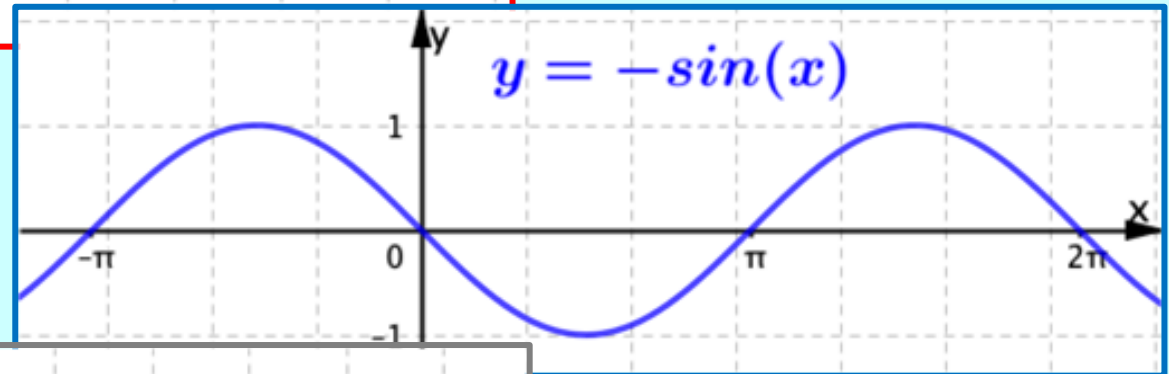
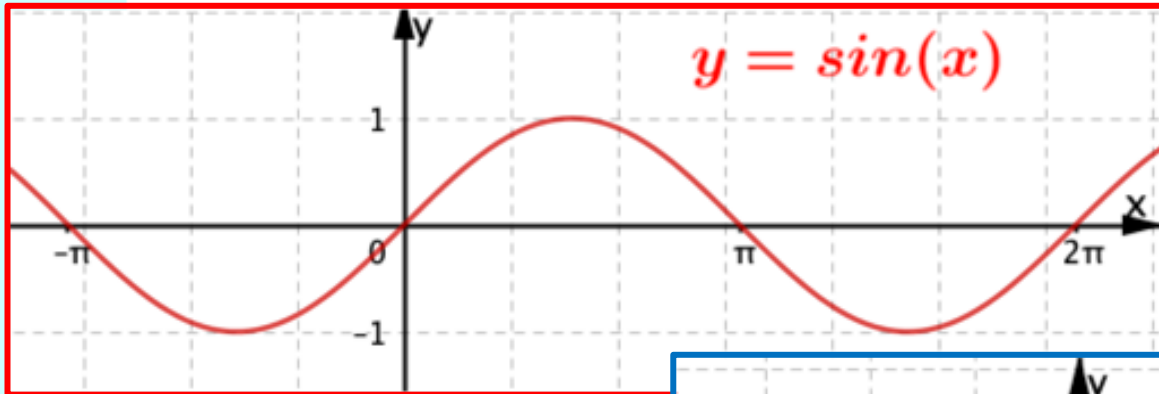


Ribalto attorno
all'asse x



Problema 2

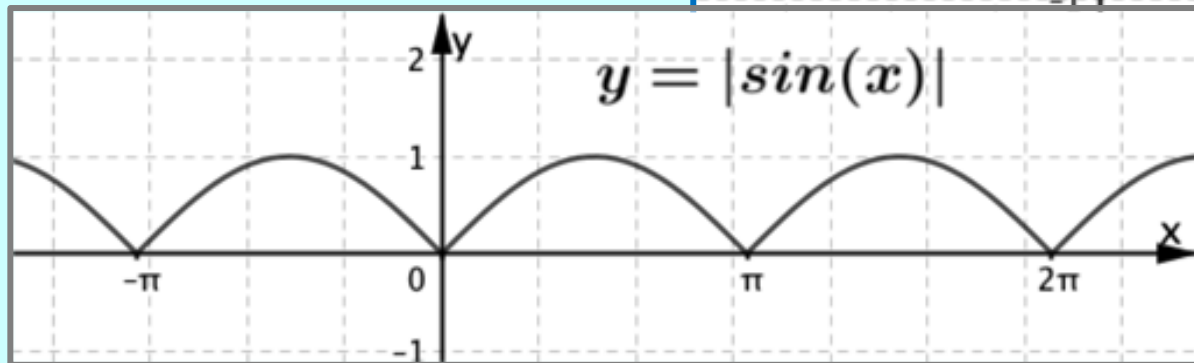
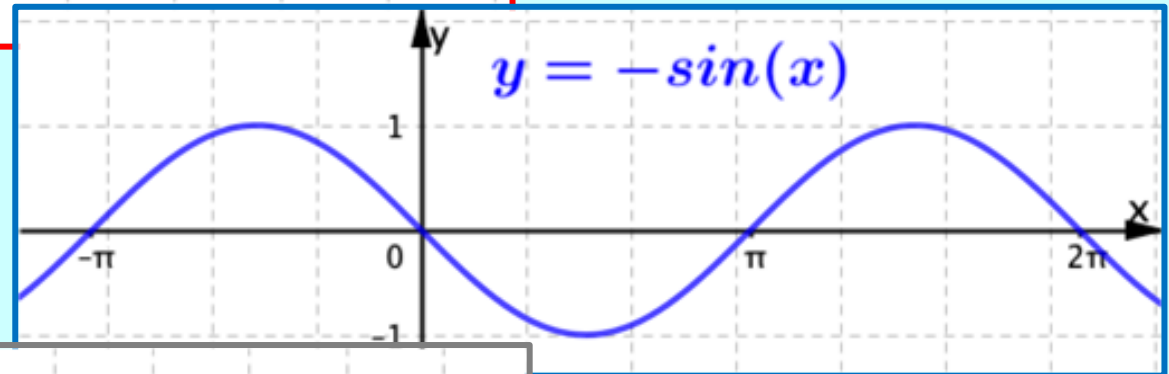
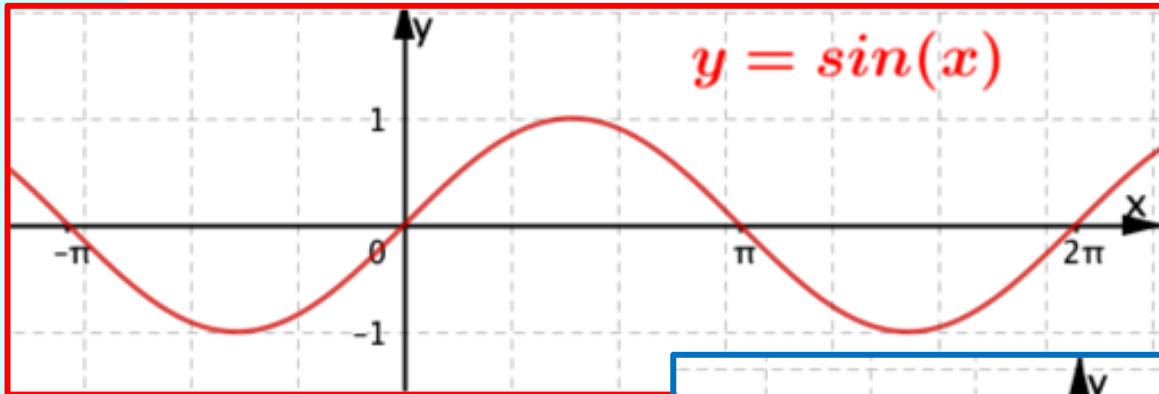
Grafico di $y = \sin(x)$, $y = -\sin(x)$, $y = |\sin(x)|$



$$y = |\sin(x)|$$
$$\Updownarrow$$
$$y = \begin{cases} -\sin(x), & \sin(x) < 0 \\ \sin(x), & \sin(x) \geq 0 \end{cases}$$

Problema 2

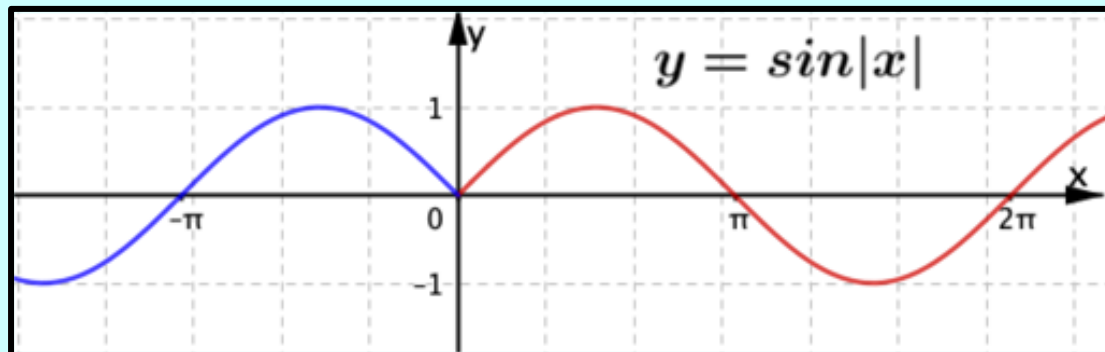
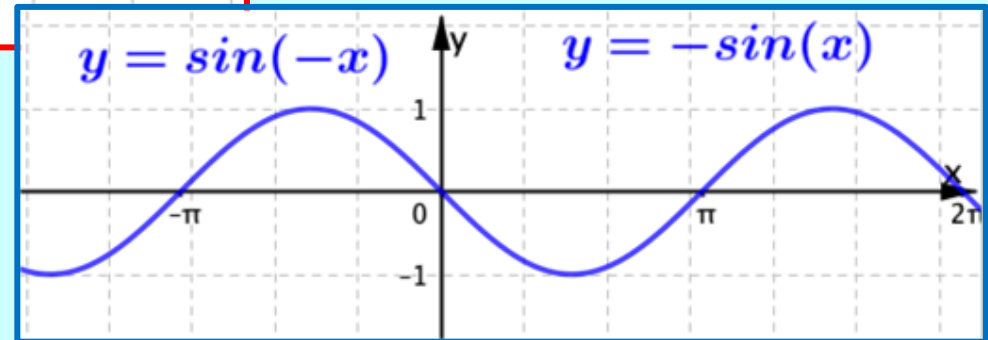
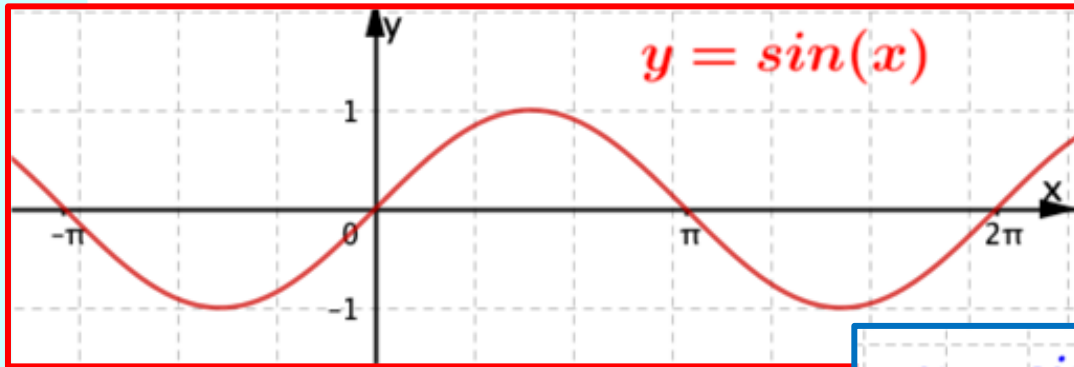
Grafico di $y = \sin(x)$, $y = -\sin(x)$, $y = |\sin(x)|$



$$y = |\sin(x)|$$
$$\Updownarrow$$
$$y = \begin{cases} -\sin(x), & \sin(x) < 0 \\ \sin(x), & \sin(x) \geq 0 \end{cases}$$

Problema 2

Grafico di $y = \sin(x)$, $y = \sin(-x)$, $y = \sin|x|$

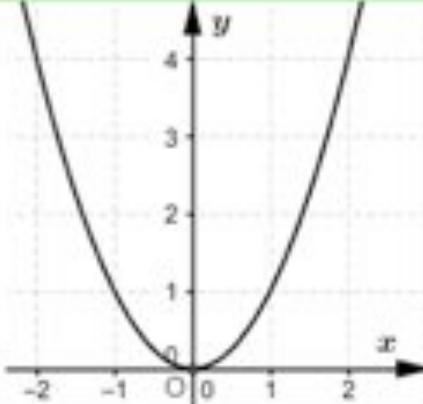
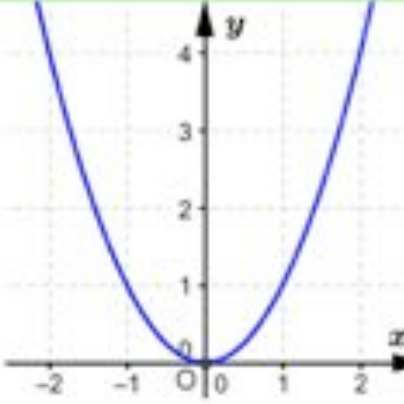


$$y = \sin|x|$$
$$\Updownarrow$$
$$y = \begin{cases} \sin(-x), & x < 0 \\ \sin(x), & x \geq 0 \end{cases}$$

Le funzioni pari

Riprendo anche le funzioni pari

Funzioni pari

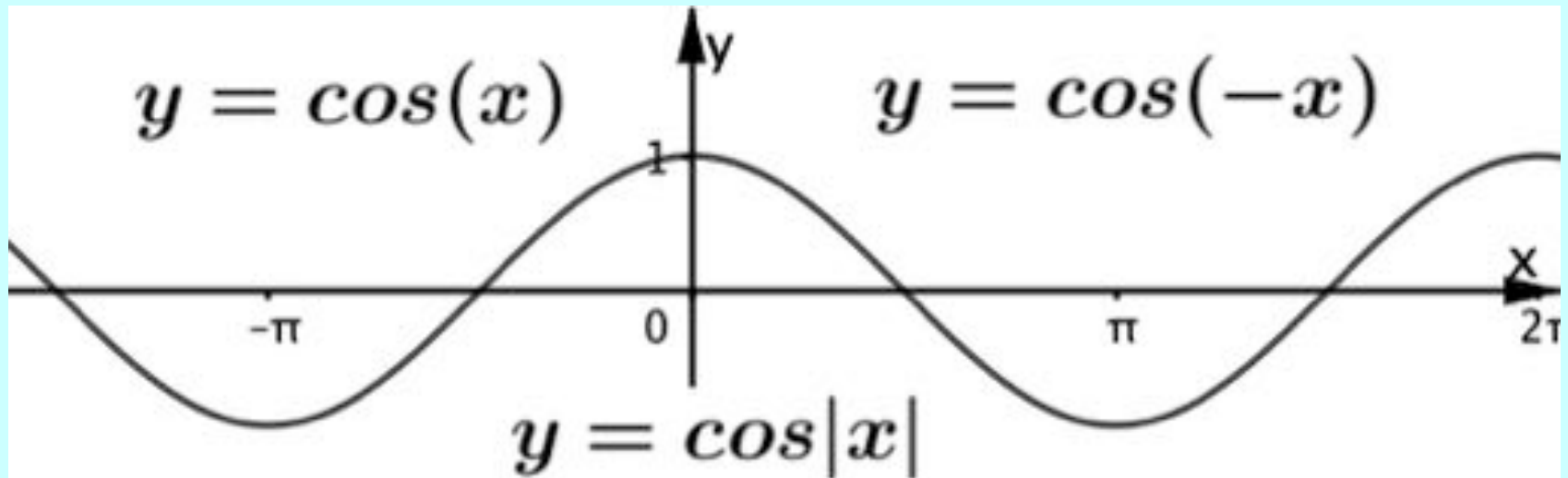
Grafico																										
Funzione	$y = x^2$	$y = (-x)^2 \Leftrightarrow y = x^2$																								
Tabella	<table border="1" data-bbox="376 763 627 1078"> <thead> <tr> <th>x</th> <th>$y = x^2$</th> </tr> </thead> <tbody> <tr> <td>-2</td> <td>$(-2)^2 = 4$</td> </tr> <tr> <td>-1</td> <td>$(-1)^2 = 1$</td> </tr> <tr> <td>0</td> <td>$0^2 = 0$</td> </tr> <tr> <td>1</td> <td>$1^2 = 1$</td> </tr> <tr> <td>2</td> <td>$2^2 = 4$</td> </tr> </tbody> </table>	x	$y = x^2$	-2	$(-2)^2 = 4$	-1	$(-1)^2 = 1$	0	$0^2 = 0$	1	$1^2 = 1$	2	$2^2 = 4$	<table border="1" data-bbox="763 763 1168 1078"> <thead> <tr> <th>x</th> <th>$y = (-x)^2$</th> </tr> </thead> <tbody> <tr> <td>-2</td> <td>$[-(-2)]^2 = 2^2 = 4$</td> </tr> <tr> <td>-1</td> <td>$[-(-1)]^2 = 1^2 = 1$</td> </tr> <tr> <td>0</td> <td>$0^2 = 0$</td> </tr> <tr> <td>1</td> <td>$(-1)^2 = 1$</td> </tr> <tr> <td>2</td> <td>$(-2)^2 = 4$</td> </tr> </tbody> </table>	x	$y = (-x)^2$	-2	$[-(-2)]^2 = 2^2 = 4$	-1	$[-(-1)]^2 = 1^2 = 1$	0	$0^2 = 0$	1	$(-1)^2 = 1$	2	$(-2)^2 = 4$
x	$y = x^2$																									
-2	$(-2)^2 = 4$																									
-1	$(-1)^2 = 1$																									
0	$0^2 = 0$																									
1	$1^2 = 1$																									
2	$2^2 = 4$																									
x	$y = (-x)^2$																									
-2	$[-(-2)]^2 = 2^2 = 4$																									
-1	$[-(-1)]^2 = 1^2 = 1$																									
0	$0^2 = 0$																									
1	$(-1)^2 = 1$																									
2	$(-2)^2 = 4$																									

Curva simmetrica rispetto all'asse y

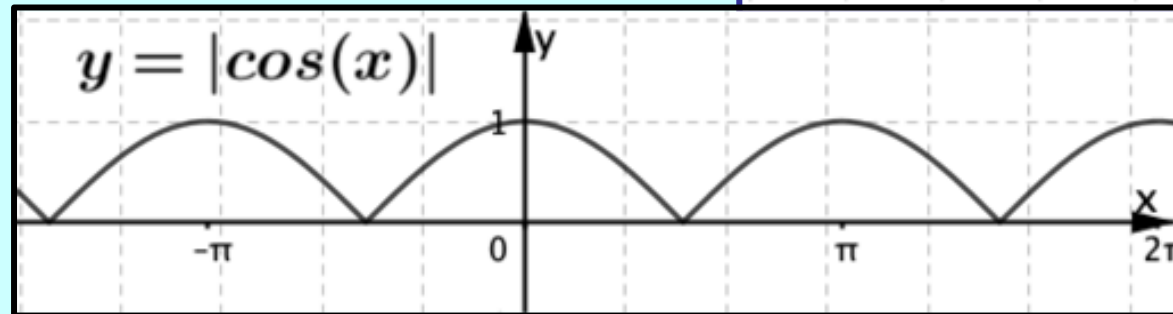
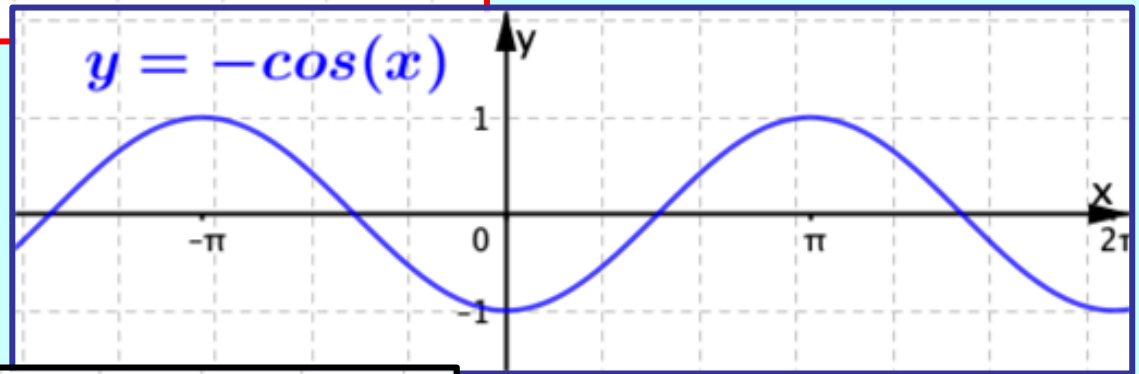
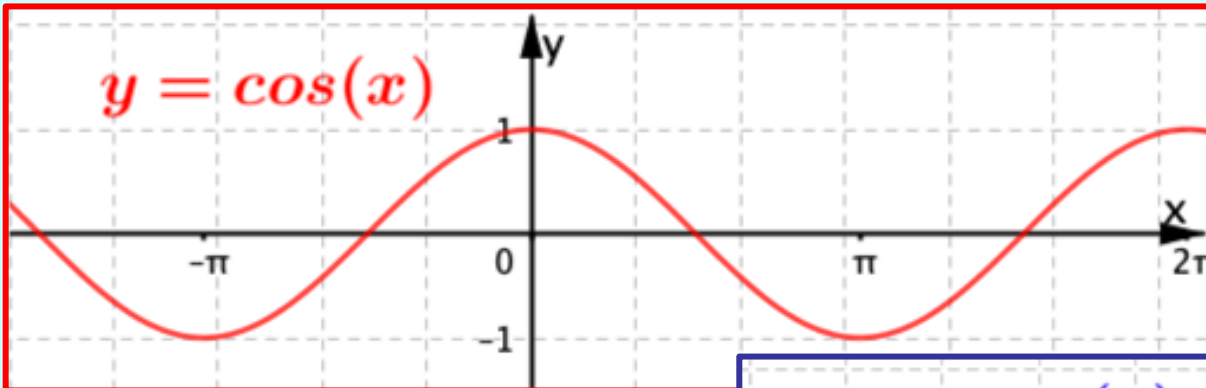
Funzione pari

Il nome *'funzione pari'* è legato al fatto che x^2 è una potenza di x con **esponente pari**.

$y = \cos(x)$ è una funzione pari



Disegnare $y = |\cos(x)|$



$$y = |\cos(x)|$$
$$\Updownarrow$$
$$y = \begin{cases} -\cos(x), & \cos(x) < 0 \\ \cos(x), & \cos(x) \geq 0 \end{cases}$$

Un procedimento 'storico' per tracciare il grafico di funzioni composte

Fino agli anni '80 del secolo scorso, non erano diffusi personal computer e calcolatrici grafiche. Perciò si usavano vari metodi per tracciare 'a mano' il grafico di funzioni composte.

Il video seguente illustra, a partire da un esempio, un procedimento all'epoca spesso utilizzato.

